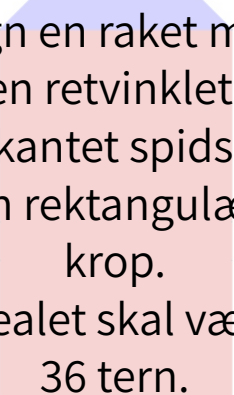
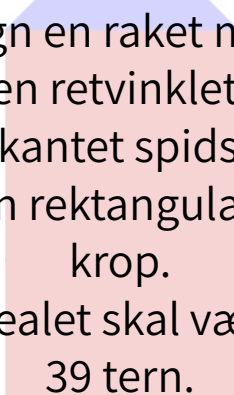


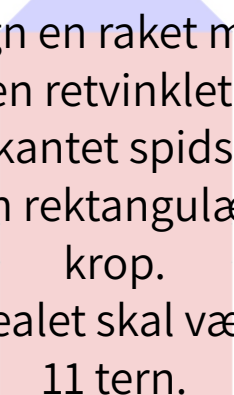
Tegn en raket med
en retvinklet,
trekantet spids og
en rektangulær
krop.
Arealet skal være
28 tern.



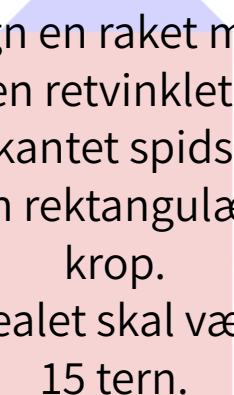
Tegn en raket med
en retvinklet,
trekantet spids og
en rektangulær
krop.
Arealet skal være
36 tern.



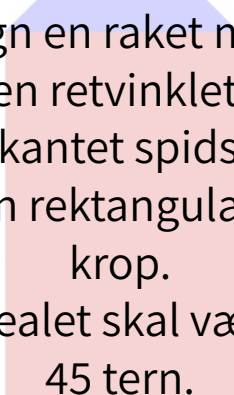
Tegn en raket med
en retvinklet,
trekantet spids og
en rektangulær
krop.
Arealet skal være
39 tern.



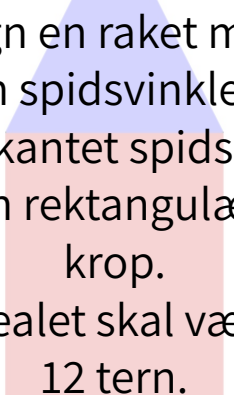
Tegn en raket med
en retvinklet,
trekantet spids og
en rektangulær
krop.
Arealet skal være
11 tern.



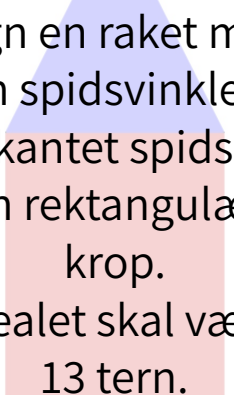
Tegn en raket med
en retvinklet,
trekantet spids og
en rektangulær
krop.
Arealet skal være
15 tern.



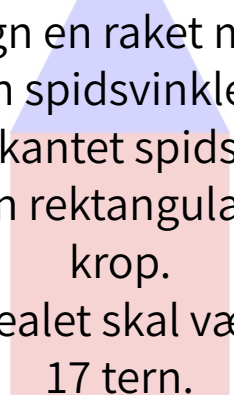
Tegn en raket med
en retvinklet,
trekantet spids og
en rektangulær
krop.
Arealet skal være
45 tern.



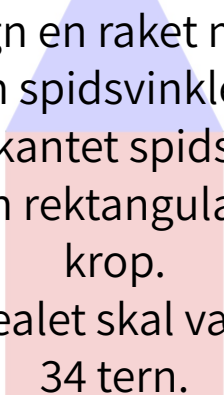
Tegn en raket med
en spidsvinklet,
trekantet spids og
en rektangulær
krop.
Arealet skal være
12 tern.



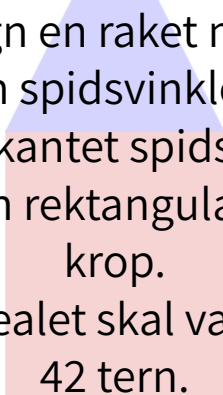
Tegn en raket med
en spidsvinklet,
trekantet spids og
en rektangulær
krop.
Arealet skal være
13 tern.



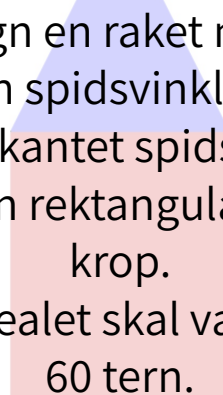
Tegn en raket med
en spidsvinklet,
trekantet spids og
en rektangulær
krop.
Arealet skal være
17 tern.



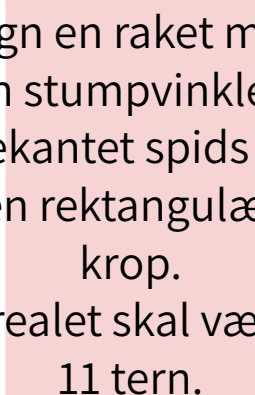
Tegn en raket med en spidsvinklet, trekantet spids og en rektangulær krop.
Arealet skal være 34 tern.



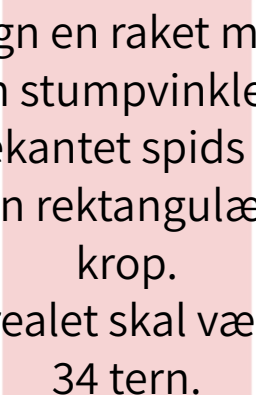
Tegn en raket med en spidsvinklet, trekantet spids og en rektangulær krop.
Arealet skal være 42 tern.



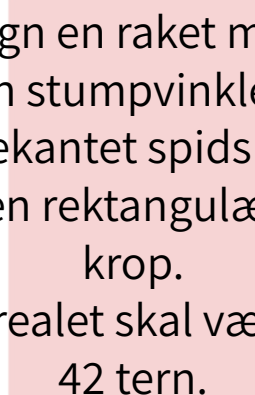
Tegn en raket med en spidsvinklet, trekantet spids og en rektangulær krop.
Arealet skal være 60 tern.



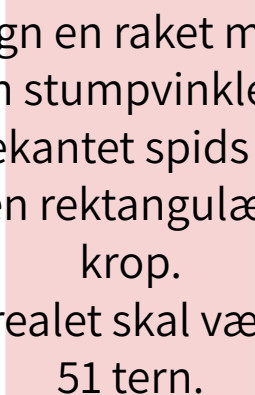
Tegn en raket med en stumpvinklet, trekantet spids og en rektangulær krop.
Arealet skal være 11 tern.



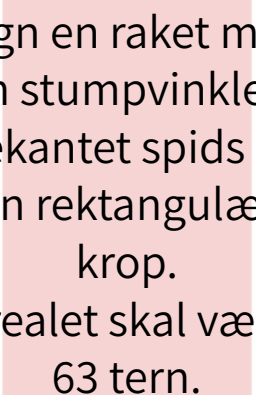
Tegn en raket med en stumpvinklet, trekantet spids og en rektangulær krop.
Arealet skal være 34 tern.



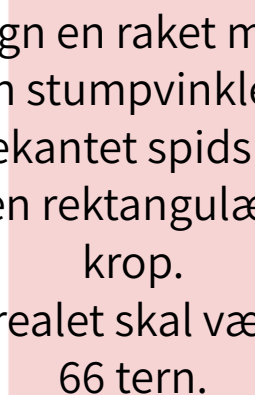
Tegn en raket med en stumpvinklet, trekantet spids og en rektangulær krop.
Arealet skal være 42 tern.



Tegn en raket med en stumpvinklet, trekantet spids og en rektangulær krop.
Arealet skal være 51 tern.



Tegn en raket med en stumpvinklet, trekantet spids og en rektangulær krop.
Arealet skal være 63 tern.



Tegn en raket med en stumpvinklet, trekantet spids og en rektangulær krop.
Arealet skal være 66 tern.

Tegn en raket med
en retvinklet,
trekantet spids, en
rektangulær krop
og retvinklede
trekantede
haleror.
Arealet skal være
10 tern.

Tegn en raket med
en retvinklet,
trekantet spids, en
rektangulær krop
og retvinklede
trekantede
haleror.
Arealet skal være
11 tern.

Tegn en raket med
en retvinklet,
trekantet spids, en
rektangulær krop
og retvinklede
trekantede
haleror.
Arealet skal være
15 tern.

Tegn en raket med
en retvinklet,
trekantet spids, en
rektangulær krop
og retvinklede
trekantede
haleror.
Arealet skal være
34 tern.

Tegn en raket med
en retvinklet,
trekantet spids, en
rektangulær krop
og retvinklede
trekantede
haleror.
Arealet skal være
36 tern.

Tegn en raket med
en retvinklet,
trekantet spids, en
rektangulær krop
og retvinklede
trekantede
haleror.
Arealet skal være
40 tern.

Tegn en raket med
en retvinklet,
trekantet spids, en
rektangulær krop
og retvinklede
trekantede
haleror.
Arealet skal være
44 tern.

Tegn en raket med
en retvinklet,
trekantet spids, en
rektangulær krop
og retvinklede
trekantede
haleror.
Arealet skal være
46 tern.

Tegn en raket med
en retvinklet,
trekantet spids, en
rektangulær krop
og retvinklede
trekantede
haleror.
Arealet skal være
50 tern.