

# Læs tallene op 1

17

34

58

63

79

94

Learning Kid (LK): \_\_\_\_\_ Zone: \_\_\_\_\_

# Læs tallene op 2

402

650

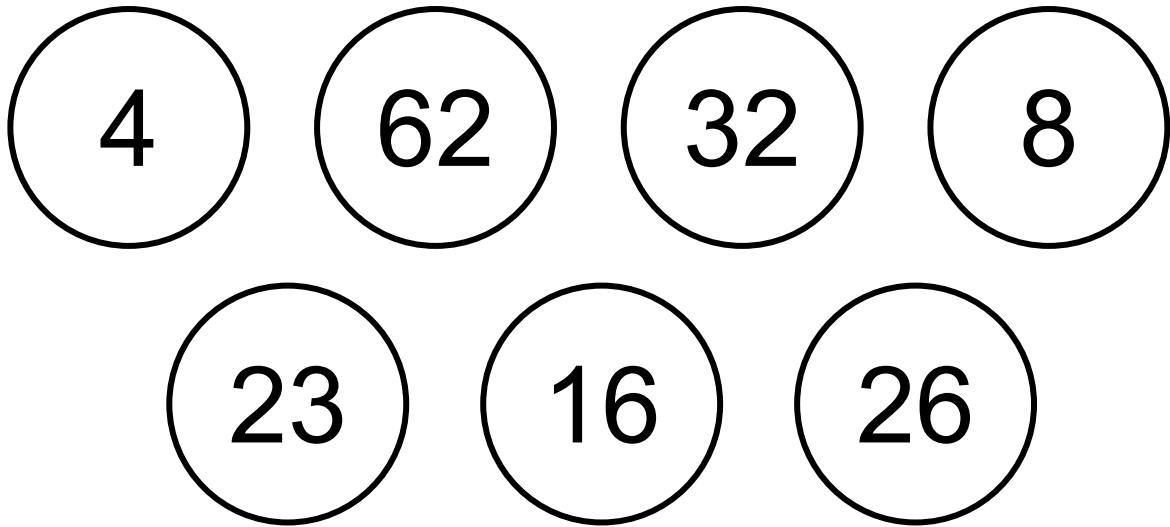
786

969

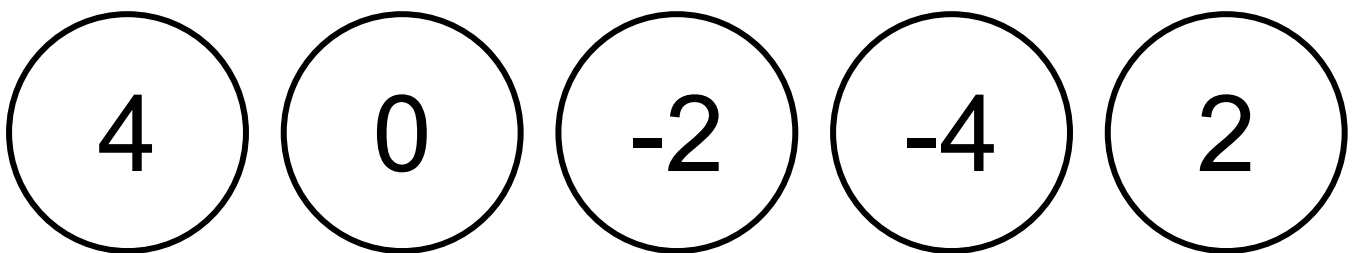
1023

4379

## Sig tallene i rækkefølge 1



## Sig tallene i rækkefølge 2



**Sæt ring om det største tal 1**

**63      36**

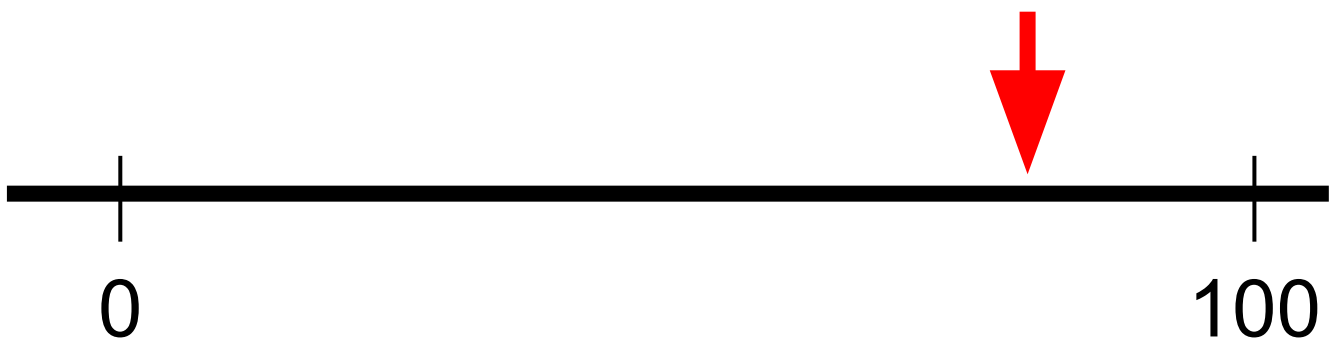
**Sæt ring om det største tal 2**

**89      98**

**Sæt ring om det største tal 3**

**253      163**

**Hvilket tal peger pilen ca. på?**



# Hvordan regner du? 1

$$2+8$$

$$4+4$$

$$5+6$$

$$7+9$$

$$4-2$$

$$10-4$$

$$17-9$$

$$15-8$$

# Hvordan regner du? 2

$$2 \cdot 4$$

$$3 \cdot 3$$

$$6 \cdot 6$$

$$12:3$$

$$20:5$$

## **Hvordan regner du? 3**

$$24 + 35$$

## **Hvordan regner du? 4**

$$46 + 57$$



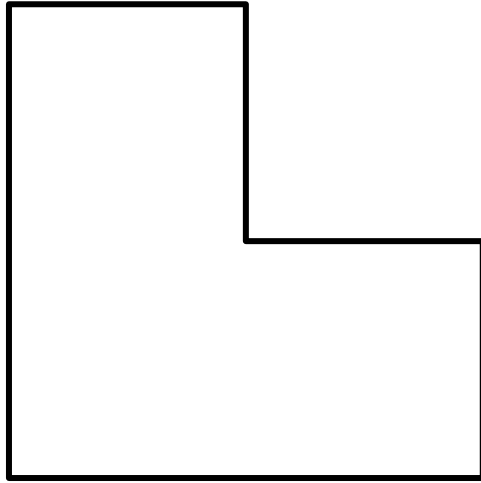
## **Hvordan regner du? 5**

$$55 - 23$$

## **Hvordan regner du? 6**

$$63 - 27$$

**Farv  $\frac{1}{2}$  af figuren**



**Farv  $\frac{1}{6}$  af figuren**

