

# Læs tallene op 1

17

34

58

63

79

94

Learning Kid (LK): \_\_\_\_\_ Zone: \_\_\_\_\_

## Læs tallene op 2

402

650


786

969

1023

4379

## Sig tallene i rækkefølge 1



## Sig tallene i rækkefølge 2



**Sæt ring om det største tal 1**

**89      98**

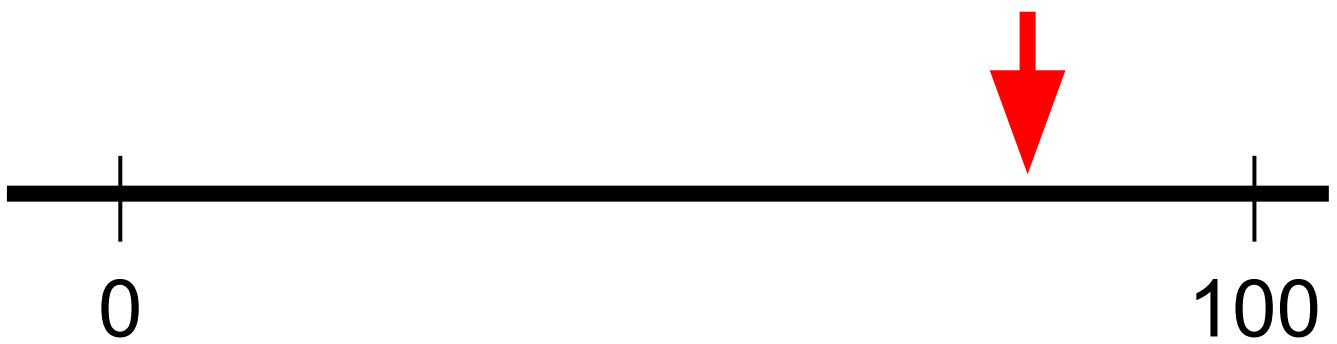
**Sæt ring om det største tal 2**

**253      532**



**Sæt ring om det største tal 3**

**1001      999**

**Hvilket tal peger pilen ca. på?**



# Udfyld skemaet

Brøktal	Illustration	Decimaltal
$\frac{1}{4}$		0,25
		0,5
		

# Hvordan regner du? 1

$$2+8$$

$$5+6$$

$$7+9$$

$$10-4$$

$$17-9$$

$$15-8$$

# Hvordan regner du? 2

$$2 \cdot 4$$

$$6 \cdot 6$$

$$9 \cdot 8$$

$$12:3$$

$$30:5$$

$$56:8$$



## **Hvordan regner du? 3**

$$24 + 35$$

## **Hvordan regner du? 4**

$$46 + 57$$

## **Hvordan regner du? 5**

$$55 - 23$$

## **Hvordan regner du? 6**

$$63 - 27$$

## **Hvordan regner du? 7**

6·17

## **Hvordan regner du? 8**

42:3

# Hvordan regner du? 9

$$2493 + 894$$

# Hvordan regner du? 10

502-344